

मेट्रो रेलवे द्वारा आयोजित मनोवैज्ञानिक अभिवृत्ति परीक्षण हेतु दिशा निर्देश

Guidelines for candidates appearing for psychological aptitude test organized by Metro Rail

यह परीक्षण आपके लिए किस तरह सहायक हैं?

- आपको पता चलता है कि आपकी क्षमताएं क्या हैं।
- यह परीक्षण हल करने में उसी कौशल की जरूरत होती है जो जॉब पर सफलता पाने के लिए जरूरी है।
- इनका निर्माण बहुत सावधानी से किया जाता है ताकि वे सभी उम्मीदवारों के लिए निष्पक्ष हों।
- इन परीक्षणों पर सफलता जॉब के साथ सामंजस्य सुनिश्चित करती है।

How can tests help you?

- They will help you to show where your strengths lie.
- They have been chosen because the skills they involve are used in the job.
- The tests are carefully designed so that they are fair to all applicants.
- Taking tests will help you in adjusting on the job.

यह परीक्षण हमारे लिए किस तरह लाभदायक हैं?

- हमें जॉब के लिए सही तरह के लोग मिलते हैं।
- परीक्षणों से हमें आपकी शक्तियों एवं कमजोरियों का निष्पक्ष मूल्यांकन मिलता है।
- जो लोग परीक्षणों पर अच्छा करते हैं वे जॉब पर भी सफल रहते हैं।

How can tests help us?

- We get the right sort of people to do the job.
- Tests give us unbiased assessment of your strengths and limitations.
- People who do well on the tests usually do well in the job itself.

आपको किस प्रकार के परीक्षण देने होंगे?

संरक्षा कोटि के महत्वपूर्ण पदों पर कर्मचारियों के चयन हेतु मनोवैज्ञानिक परीक्षणों का प्रयोग किया जाता है। जिस पद के लिए आपने आवेदन किया है उसके लिए निर्धारित परीक्षण माला आपको दी जाएगी जिसमें छः परीक्षण होंगे।

सामान्यतः परीक्षण 50-100 अभ्यर्थियों के समूह में दिए जाते हैं। अभ्यर्थियों को परीक्षण पुस्तिका में दिए प्रश्नों का उत्तर ओ. एम. आर. उत्तरपत्र पर देना होता है।

What sort of tests will you have to take?

The Psychological tests have been designed for various jobs in critical safety categories. You will be given the test battery, consisting of six tests, prescribed for the job you have applied for.

Generally the tests are administered in groups of 50-100 candidates. They are required to answer the questions given in test booklets and mark the responses on OMR Answer Sheets.

आपको उत्तर कैसे दर्ज करने हैं

अधिकांश पेपर-पेन्सिल परीक्षणों के उत्तर एक अलग उत्तरपत्र पर दर्ज किए जाते हैं ताकि उनका मूल्यांकन शीघ्रता से किया जा सके। भारतीय रेल द्वारा प्रयोग किए जाने वाले उत्तरपत्र का नमूना यहां देखा जा सकता है। उत्तरपत्र पर उत्तर प्रदर्शित करने के लिए सम्बंधित गोले को **पूरी तरह काला** करना होता है। **नीले बाल प्वाइंट पेन** का प्रयोग करना है तथा दिए हुए उत्तर बदलने की अनुमति नहीं है।

HOW TO RECORD YOUR ANSWERS

Most paper-pencil tests require you to record your answers on a separate answer sheet so that they can be scored quickly. A sample of the answer sheet used by Indian Railways may be seen [here](#). The answers are marked on the answer sheet by fully darkening the circles which go with your answers. Use a **blue ball point** pen. Remember you are not permitted to change your answer.

Sample answer sheet

उत्तरपत्र का नमूना

[illegible]

कृपया ध्यान दें:

- आपके ओ.एम.आर. उत्तरपत्र पर आपका अनुक्रमांक , अभ्यास प्रश्नों के उत्तर, परीक्षण अभिज्ञान एवं कूट संख्या तथा मुख्य परीक्षण के उत्तर देने का स्थान दिया गया है।
- परीक्षण माला के प्रत्येक परीक्षण हेतु अलग स्थान है। सावधानी पूर्वक सही स्थान पर उत्तर चिन्हित करें।
- प्रत्येक उत्तर के लिए केवल एक ही गोला काला करना है।
- उत्तर पत्र पर किसी प्रकार का अतिरिक्त चिन्ह न लगाएं।

Please note:

- Your OMR Answer Sheet has spaces for writing your Roll Number, Answers to Practice Problems, Test ID and Test Code for each test and Answers to Test proper
- There is separate answer space for each test of the battery. Be careful to mark your answers at correct place
- Only one circle is to be darkened for each answer.
- Do not make any stray marks on your Answer Sheet or Test booklets.

मेट्रो रेलवे की परीक्षण माला में निम्न परीक्षण हैं —

- बुद्धि परीक्षण
- स्मृति परीक्षण
- एकग्रता परीक्षण
- व्यक्तित्व परीक्षण
- फील्ड इंडीपेन्डेंस परीक्षण
- प्रतिक्रियाकाल परीक्षण

Composition of Metro Railway's Test Battery

- Intelligence Test
- Memory Test
- Concentration Test
- Personality Test
- Field Independence Test
- Reaction Time Test

प्रत्येक परीक्षण की **अलग** समय सीमा है जो आपको परीक्षण सत्र के दौरान सूचित कर दी जाएगी। आपको निर्धारित समय के भीतर ही परीक्षण की समस्याओं को हल करना है तथा अपने उत्तर चिन्हित करने हैं।

Each test has separate Time Limits, which will be advised to you during test sessions. You have to solve test items and mark your answers within the prescribed time.

टिप्पणी:

यहां दिया गया परीक्षणों का विवरण केवल मार्गदर्शन हेतु है। परीक्षण बिना किसी पूर्व सूचना के किसी भी समय बदले जा सकते हैं।

Note:

The details of the tests shown here are only indicative.
These may change any time without any prior notice.

परीक्षणों के नमूने/ **Sample of Tests**

परीक्षण अभिज्ञान Test ID	FB
परीक्षण कूट Test Code	1

Test Booklet No.
परीक्षण पुस्तिका सं०

1. Do not open this booklet until you are told to do so.
जब तक कहा न जाए इस पुस्तिका को न खोलें।
2. Do not make any mark in this booklet.
इस पुस्तिका पर कोई निशान न लगाएँ।

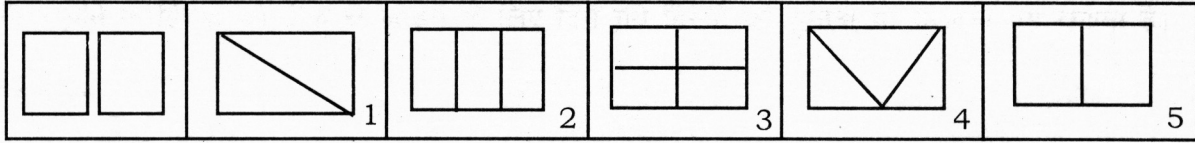
Instructions : This is a test of intelligence. There are 25 problems in this test. In each problem you are to decide which figure shows the parts given in left hand box correctly fitted together.

निर्देश : यह एक बुद्धि परीक्षण है। इस परीक्षण में 25 समस्याएँ हैं। प्रत्येक समस्या में आपको यह बताना है कि किस आकृति में बायीं ओर दिये गये चौकोर में दिखाये टुकड़े सही तरह से जुड़ी स्थिति में दिए गये हैं।

Here are some practice problems.

नीचे कुछ अभ्यास प्रश्न दिये जा रहे हैं।

Practice Problem - 1
अभ्यास प्रश्न - 1



Look at the figures in the box at left hand corner. There are two parts in it. Now look at the five figures in boxes labelled 1, 2, 3, 4 and 5. You are to decide which figure shows how these parts can fit together. Let us first take Figure 1. Figure 5 does look as the part in the left hand corner box would look when fitted together. So mark 5 on your O. M. R. answer-sheet against Practice Problem 1.

बायीं ओर दिये गये चौकोर में दी गयी आकृति को देखें। यह आकृति दो भागों में है। दायीं ओर 5 चौकोर दिये गये हैं जिन्हें 1, 2, 3, 4 एवं 5 अंकों से प्रदर्शित किया गया है। आपको यह तय करना है कि किस संख्या वाला चौकोर बायीं ओर दी गयी आकृति के आपस में जुड़े हुए टुकड़े दिखाता है। आप देखेंगे कि 5 की संख्या वाला चौकोर, आकृति के ठीक प्रकार से जुड़े हुए टुकड़े प्रदर्शित करता है। आप अपने ओ0 एम0 आर0 उत्तर-पत्र में अभ्यास प्रश्न 1 के सामने 5 नम्बर वाले स्थान को चिह्नित कर दें।

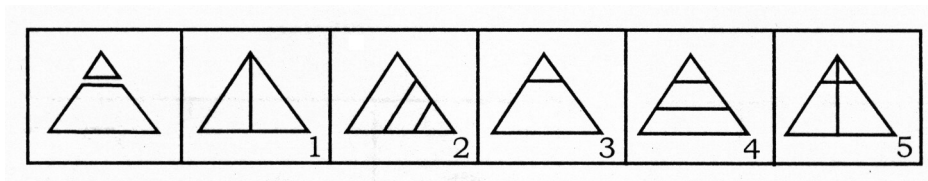
DO NOT TURN THIS PAGE UNTIL YOU ARE ASKED TO DO SO.

जब तक कहा न जाए यह पृष्ठ मत उलटिए।

Now look at Practice Problem 2.

अब अभ्यास प्रश्न 2 को देखिये।

Practice Problem - 2
अभ्यास प्रश्न - 2



On similar lines, decide which of the figures in boxes labelled 1, 2, 3, 4 and 5 looks as the parts in the left hand corner box would look when fitted together. As you will notice Figure 3 is the correct answer. So mark number 3 in your O. M. R. answer-sheet against Practice Problem 2.

इसी प्रकार बताएँ कि चौकोर संख्या 1 से 5 में दी गयी कौन सी आकृति, बायीं ओर दी गयी आकृति को ठीक प्रकार से जुड़े रूप में प्रदर्शित करती है। जैसा कि आपको लगेगा कि आकृति संख्या 3 सही उत्तर है। आप अपने ओ0 एम0 आर0 उत्तर-पत्र में अभ्यास प्रश्न 2 के सामने 3 नम्बर वाले स्थान को चिह्नित कर दें।

Sometimes the parts have to be turned around, and sometimes they have to be turned over in order to make them fit.

कभी-कभी आकृति के हिस्सों को ठीक से जोड़ने के लिए दिये गये हिस्सों को घुमाना या उलटना पड़ सकता है।

परीक्षण अभिज्ञान Test ID	
परीक्षण कूट Test Code	

Test Booklet No.

परीक्षण पुस्तिका सं०

- जब तक कहा न जाए इस पुस्तिका को न खोलें।
Do not open this booklet until you are told to do so.
- इस पुस्तिका पर कोई निशान न लगाएं।
Do not make any mark in this booklet.







Instructions:

निर्देश:

This is a test of memorizing Picture-Number combinations. The test is in two parts. In each part, there is a Memory page and a Test page. You are required to remember 21 picture-number pairs given on the Memory page. After some time you will be asked to go to the Test page, which shows the pictures in different order. You will be asked to indicate the numbers that go with them. You may pick your answer out of the four options given for each picture and mark the correct answer on your OMR sheet by darkening the corresponding circle. Here are some practice pictures with numbers:

यह चित्र-अंक युग्म (जोड़े) स्मरण रखने का परीक्षण है। यह परीक्षण दो भागों में है। प्रत्येक भाग में एक स्मृति पृष्ठ एवं एक परीक्षण पृष्ठ है। आपको स्मृति पृष्ठ पर दिए 21 चित्र-अंक युग्मों को याद करना है। कुछ समय के बाद आपको परीक्षण पृष्ठ पर जाने के लिए कहा जाएगा, जिस पर स्मृति पृष्ठ के चित्र भिन्न क्रम में दिए रहेंगे। आपको उन चित्रों के साथ वाले अंक बताने होंगे। प्रत्येक चित्र के लिए चार विकल्प दिए गए हैं। आपको अपना उत्तर उनमें से चुनना है। सही उत्तर संबंधित गोले को काला करते हुए ओ0एम0आर0 उत्तर पत्र पर चिह्नित करें। यहां अभ्यास के लिए कुछ चित्र-अंक युग्म दिए गए हैं।

Practice Memory Figures/ अभ्यास स्मृति चित्र

	12		28		95
	71		70		15







Study the above until you are told to turn to the next page.

जब तक आपको अगले पृष्ठ पर जाने के लिए न कहा जाए इनका अध्ययन करें।

DO NOT TURN THIS PAGE UNTIL YOU ARE ASKED TO DO SO

जब तक कहा न जाए यह पृष्ठ मत उलटिए

Practice Test figures/ अभ्यास परीक्षण चित्र

1		A-47 B-56 C-15 D-65
3		A-38 B-69 C-28 D-53
5		A-67 B-46 C-71 D-55
2		A-70 B-43 C-87 D-36
4		A-55 B-12 C-95 D-71
6		A-77 B-95 C-32 D-42

For the first picture the correct number has been given against alternative 'C'. Please mark 'C' on your OMR sheet against Practice Problem - I of this test. On similar lines, try to answer Practice Problems 2, 3, 4, 5 and 6. You will note that the correct option, for picture 2 to 6 are A, C, B, C and B, respectively.

प्रथम चित्र के लिए सही उत्तर विकल्प C है। कृपया इस परीक्षण की अभ्यास समस्या-I के सामने ओ0एम0आर0 उत्तर पत्र पर C चिन्हित करें। इसी प्रकार अभ्यास समस्या 2, 3, 4, 5 एवं 6 के उत्तर देने का प्रयास करें। आप पाएंगे कि चित्र संख्या 2 से 6 के लिए सही विकल्प क्रमशः A, C, B, C और B हैं।

Please remember that there are two parts in this test. Each part has two pages. The first of this is a Memory page, which you are to study. Second is a Test page on which you will find the pictures with 4 options and you will be required to pick the correct one that goes with the picture.

स्मरण रखें कि इस परीक्षण के दो भाग हैं। प्रत्येक भाग के दो पृष्ठ हैं। प्रथम पृष्ठ स्मृति पृष्ठ है जिसका आपको अध्ययन करना है। दूसरा परीक्षण पृष्ठ है जिस पर आपको वे चित्र मिलेंगे जिनसे जुड़े अंक आपको बताने हैं। आपको सही विकल्प का चयन दिए गए चार विकल्पों में से करना है।

When you have finished Part-I, stop. Please do not go to Part-II until you are asked to do so.

भाग 1 पूरा करने के बाद रुक जाएं। जब तक आपसे कहा न जाए भाग 2 पर न जाएं।

DO NOT TURN THIS PAGE UNTIL YOU ARE ASKED TO DO SO

जब तक कहा न जाए यह पृष्ठ मत उलटिए

परीक्षण अभिज्ञान	
Test ID	
परीक्षण कूट	2
Test Code	

Test Booklet No.

परीक्षण पुस्तिका सं०

- जब तक कहा न जाए इस पुस्तिका को न खोलें।
Do not open this booklet until you are told to do so.
- इस पुस्तिका पर कोई निशान न लगाएं।
Do not make any mark in this booklet.

Instructions:


निर्देश:

This is a test of Power of Observation. There are 30 problems in this test. In each problem, 6 figures named A, B, C, D, E and F are given. Out of these, five figures are identical and one figure is different than the others in some respect. You are required to identify the dissimilar figure. Here are some practice problems:

यह अवलोकन क्षमता का परीक्षण है। इस परीक्षण में 30 समस्याएं हैं। प्रत्येक समस्या में छः आकृतियां A, B, C, D, E एवं F दी गई हैं। इनमें पांच आकृतियां एक समान हैं जबकि एक आकृति अन्य से कुछ भिन्न है। आपको भिन्न या असमान आकृति को पहचानना है। यहां कुछ अभ्यास प्रश्न दिये गये हैं:

Practice Problem –I

अभ्यास प्रश्न—I




In the above Practice Problem the figures A, C, D, E and F are similar but figure 'B' is different. Therefore, 'B' is the correct answer for Practice Problem - I. Please indicate your answer by darkening Circle 'B' on your OMR answer sheet against Practice Problem - I of this test.

उपरोक्त अभ्यास प्रश्न में आकृति 'B' भिन्न है जबकि आकृतियां A, C, D, E एवं F एक समान हैं। अतः अभ्यास प्रश्न—I के लिए B सही उत्तर होगा। कृपया अभ्यास प्रश्न—I के सामने ओ0एम0आर0 उत्तर पत्र पर अपना उत्तर B गोला काला करके दिखाएं।

Practice Problem – II

अभ्यास प्रश्न-II



Try Practice Problem - II on similar lines. A careful look at the figures will indicate that figure 'F' is dissimilar. Mark Circle 'F' against Practice Problem - II on your OMR answer sheet.

इसी प्रकार अभ्यास प्रश्न-II हल करने का प्रयास करें। आकृतियों को सावधानीपूर्वक देखने से ज्ञात होता है कि आकृति F भिन्न है। ओ0एम0आर0 उत्तर पत्र पर अभ्यास प्रश्न-II के लिए F गोला चिन्हित करें।

This is the way in which you have to answer the 30 problems in this test.

आपको इसी प्रकार इस परीक्षण की 30 समस्याओं का उत्तर देना है।

Study each problem carefully before marking the answer for it. Avoid wild guessing.

उत्तर चिन्हित करने से पहले समस्या का सावधानीपूर्वक अध्ययन करें। निरर्थक अनुमानों से बचें।

DO NOT TURN THIS PAGE UNTIL YOU ARE ASKED TO DO SO

जब तक कहा न जाए यह पृष्ठ मत उलटिए

0000	
परीक्षण अभिज्ञान Test ID	PO
परीक्षण कूट Test Code	1

Test Booklet No.

परीक्षण पुस्तिका सं०

- जब तक कहा न जाए इस पुस्तिका को न खोलें।
Do not open this booklet until you are told to do so.
- इस पुस्तिका पर कोई निशान न लगाएं।
Do not make any mark in this booklet.

Instructions:

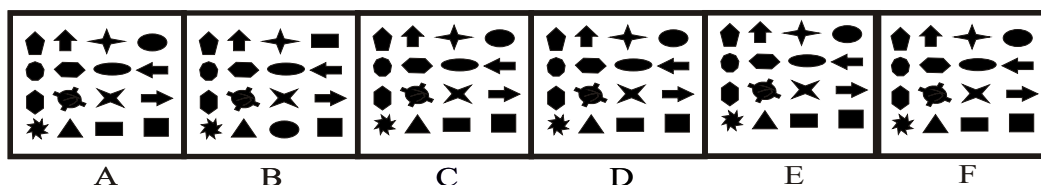
निर्देश:

This is a test of Power of Observation. There are 30 problems in this test. In each problem, 6 figures named A, B, C, D, E and F are given. Out of these, five figures are identical and one figure is different than the others in some respect. You are required to identify the dissimilar figure. Here are some practice problems:

यह अवलोकन क्षमता का परीक्षण है। इस परीक्षण में 30 समस्याएं हैं। प्रत्येक समस्या में छः आकृतियां A, B, C, D, E एवं F दी गई हैं। इनमें पांच आकृतियां एक समान हैं जबकि एक आकृति अन्य से कुछ भिन्न है। आपको भिन्न या असमान आकृति को पहचानना है। यहां कुछ अभ्यास प्रश्न दिये गये हैं:

Practice Problem – I

अभ्यास प्रश्न—I

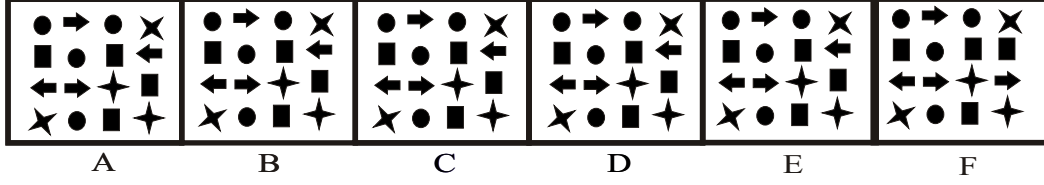


In the above Practice Problem the figures A, C, D, E and F are similar but figure 'B' is different. Therefore, 'B' is the correct answer for Practice Problem - I. Please indicate your answer by darkening Circle 'B' on your OMR answer sheet against Practice Problem - I of this test.

उपरोक्त अभ्यास प्रश्न में आकृति 'B' भिन्न है जबकि आकृतियां A, C, D, E एवं F एक समान हैं। अतः अभ्यास प्रश्न—I के लिए B सही उत्तर होगा। कृपया अभ्यास प्रश्न—I के सामने ओ0एम0आर0 उत्तर पत्र पर अपना उत्तर B गोला काला करके दिखाएं।

Practice Problem – II

अभ्यास प्रश्न–II



Try Practice Problem - II on similar lines. A careful look at the figures will indicate that figure 'F' is dissimilar. Mark Circle 'F' against Practice Problem - II on your OMR answer sheet.

इसी प्रकार अभ्यास प्रश्न–II हल करने का प्रयास करें। आकृतियों को सावधानीपूर्वक देखने से ज्ञात होता है कि आकृति F भिन्न है। ओ0एम0आर0 उत्तर पत्र पर अभ्यास प्रश्न–II के लिए F गोला चिन्हित करें।

This is the way in which you have to answer the 30 problems in this test.

आपको इसी प्रकार इस परीक्षण की 30 समस्याओं का उत्तर देना है।

Study each problem carefully before marking the answer for it. Avoid wild guessing.

उत्तर चिन्हित करने से पहले समस्या का सावधानीपूर्वक अध्ययन करें। निरर्थक अनुमानों से बचें।

DO NOT TURN THIS PAGE UNTIL YOU ARE ASKED TO DO SO

जब तक कहा न जाए यह पृष्ठ मत उलटिए

0461	
परीक्षण अभिज्ञान Test ID	PQA
परीक्षण कूट Test Code	1

Test Booklet No.

परीक्षण पुस्तिका सं०

- जब तक कहा न जाए इस पुस्तिका को न खोलें।
Do not open this booklet until you are told to do so.
- इस पुस्तिका पर कोई निशान न लगाएं।
Do not make any mark in this booklet.

INSTRUCTIONS :

Inside this booklet are some questions to see what attitudes and interests you have. There are no 'right' or 'wrong' answers because everyone has the right to put his own views.

First you should answer the two sample questions below so that you can see whether you need to ask anything before starting. Although you are to read the questions in this booklet, you must record your answers on the answer sheet.

There are three possible answers to each question. Read the following examples and mark your answers at the place provided for practice problems on your answer sheet by filling the appropriate circle.

EXAMPLE :

- I like to watch team games.*
A) yes ,
B) occasionally,
C) no.
- I prefer people who:*
A) are reserved,
B) (are) in between,
C) make friends quickly.

When you answer keep these four points in mind :

- Give the first natural answer as it comes to you.
- Try not to fall back on the middle, 'uncertain' answers except when the answer at either end is really impossible for you.
- Be sure not to skip anything, but answer every question, somehow.
- Answer as honestly as possible what is true of you. Do not merely mark what seems 'the right thing to say'.

DO NOT TURN THIS PAGE UNTIL YOU ARE ASKED TO DO SO

जब तक कहा न जाए यह पृष्ठ मत उलटिए

निर्देश :

इस पुस्तिका में कुछ प्रश्न हैं जिनसे यह पता लगेगा कि आपका मनोभाव कैसा है और आपकी पसन्द किस तरह की है। इनके कोई 'सही' या 'गलत' उत्तर नहीं हैं, क्योंकि हर आदमी को अपना-अपना दृष्टिकोण रखने का अधिकार है।

सबसे पहले आपको नीचे लिखे नमूने के दो प्रश्नों का उत्तर देना होगा जिससे आपको पता लग जाए कि जांच शुरू करने के पहले आपको कुछ पूछना तो नहीं है। सभी प्रश्नों को इस पुस्तिका से पढ़ना है, पर उनके उत्तर केवल 'उत्तर पत्र' में ही देने हैं। जिस नम्बर का प्रश्न पुस्तिका में हो उसी नम्बर के खाने में 'उत्तर पत्र' पर निशान लगाना है।

हर एक प्रश्न के तीन संभावित उत्तर दिये हुए हैं। नीचे लिखे उदाहरणों को पढ़िये और अपने उत्तर इस परीक्षण के अभ्यास प्रश्नों के लिए नियत स्थान में, उचित गोले को भर कर प्रदर्शित कीजिए।

उदाहरण :

1. मैं टीम वाले खेलों को देखना पसन्द करता हूँ।

- A) हाँ,
- B) कभी-कभी,
- C) नहीं।

2. मैं ऐसे लोगों को पसन्द करता हूँ जो :

- A) गंभीर हों,
- B) दोनों के बीच के हों,
- C) जल्दी दोस्त बना लेते हों।

प्रश्नों का उत्तर देते समय नीचे लिखी इन चार बातों का ध्यान रखें :

1. आपको किसी प्रश्न पर ज्यादा सोच-विचार करने की जरूरत नहीं है। जो उत्तर सबसे पहले मन में आये उसमें ही निशान लगाएं।
2. बीच वाले 'अनिश्चित' उत्तरों का सहारा लेने की कोशिश मत कीजिए। इन्हें तभी चुनें जब अन्य विकल्प चुनना आपके लिए सचमुच ही असंभव हो।
3. इस बात का ख्याल रखें कि कोई प्रश्न छूटने न पाये। जैसे भी हो सभी प्रश्नों का उत्तर दें।
4. जो उत्तर आपके लिए सही है वही उत्तर सच्चाई और ईमानदारी से दें।

GEFT-I

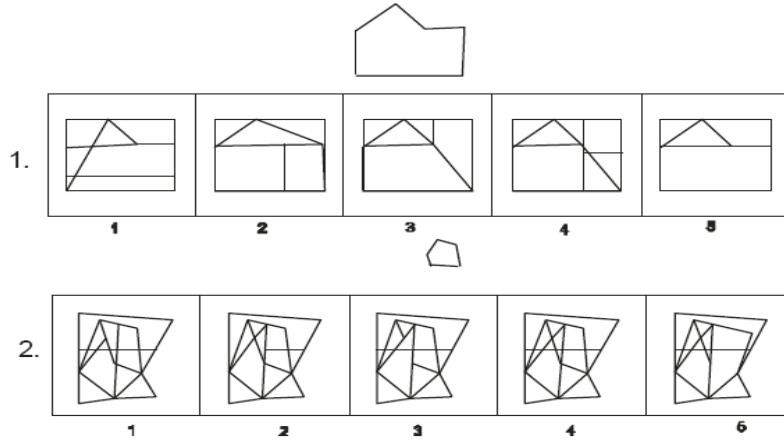
Instructions/निर्देश:

This test assesses your ability to find a simple figure hidden in a complex pattern. In this test you will be shown a simple form below which five complex figures namely 1,2,3,4 and 5 are given. Out of the five complex figures, your task is to find out the one in which simple form is hidden. Please remember that the shape, size and direction of the simple form is exactly the same in complex figure. You are required to indicate the option that shows your answer by filling up the corresponding circle on O.M.R. answer sheet.

यह परीक्षण आपके जटिल आकृति में से सरल आकृति ढूँढने की योग्यता का मापन करता है। इस परीक्षण में आपको एक सरल आकृति तथा नीचे 1, 2, 3, 4 व 5 जटिल आकृतियाँ दिखाये जायेंगे। आपको इन पाँच जटिल आकृतियों में से किसमें सरल आकृति छिपी है ढूँढना है। ध्यान रहे कि सरल आकृति का आकार-प्रकार व दिशा जटिल आकृति में बिल्कुल ज्यों की त्यों दी गई है। अपना उत्तर देने के लिए आपको सही विकल्प चुनकर ओ.एम.आर. उत्तर पत्र पर संबंधित गोले को भर कर देना है।

look at the example figure given below:

नीचे दिए गए उदाहरण आकृति को देखें:



The correct answer for practice problem 1 is '5', for 2 is 4. Show your answer by filling up the corresponding circle in the space provided for practice problems on OMR answer sheet.

अभ्यास समस्या 1 का सही उत्तर 5, 2 का 4 है। आप अपना उत्तर ओ.एम.आर. उत्तर पत्र पर अभ्यास के लिए दिए गए स्थान में संबंधित गोले को भरकर दिखाएं।

DO NOT TURN THIS PAGE UNTIL YOU ARE TOLD TO DO SO.

जब तक कहा न जाए इस पृष्ठ को न पलटें।

Complex Reaction Time Test

Put a finger of your dominant hand on the rest (**L**) button to begin. A **Red**, **Green** or **Yellow** light will appear on the screen at random. Press the button corresponding to the colour of light as early as possible. After pressing the button your finger should go back to the rest (**L**) button.

जटिल प्रतिक्रियाकाल परीक्षण

आरम्भ करने के लिए आप अपने सीधे हाथ की अंगुली से रेस्ट (**L**) बटन को दबा कर रखें। स्क्रीन पर **लाल**, **हरी** या **पीली** लाइट एक - एक करके दिखाई देगी। जितनी जल्दी संभव हो सके संबंधित बटन को दबाएं। संबंधित बटन दबाने के बाद पुनः अंगुली से रेस्ट बटन (**L**) को दबाएं।

बेहतर अंक प्राप्त करने के लिए आप क्या कर सकते हैं?

WHAT CAN YOU DO TO GET BETTER SCORES?

परीक्षण सत्र के पहले

- रात भर नहीं जागे रहें। सुनिश्चित करें कि रात में अच्छी नींद सोयें।
- परीक्षण स्थल पर पहुंचने के लिए समय से चलें ताकि आपको भाग-दौड़ न करनी पड़े।

Before the Session

- Don't awake up all night. Make sure you get a good night's sleep.
- Give yourself plenty of time to get to the session so that you don't have to rush.

परीक्षण सत्र के दौरान

- निर्देशों को ध्यानपूर्वक सुनें।
- ठीक वैसा कार्य करें जैसा आपको कहा जा रहा है।
- प्रश्न पूछने में संकोच न करें।
- प्रत्येक प्रश्न का उत्तर सोच विचार कर दें।
- जितनी जल्दी और शुद्धता से हो सके कार्य करें क्योंकि अधिकांश परीक्षाओं की समय सीमा बहुत कम है।
- अधिक कठिन प्रश्नों पर समय नष्ट न करें।
- अपने समीप बैठे अभ्यर्थी के उत्तरों की नकल न करें क्योंकि उसकी परीक्षण पुस्तिका आपसे भिन्न हो सकती है।

At the Session

- Listen carefully to the instructions.
- Do exactly as you are told.
- Don't be afraid to ask questions.
- Think about each question before answering.
- Work quickly and accurately, as most tests have short time limits.
- Don't waste time on difficult questions.
- Do not try to copy answers of candidate next to you as his question booklet may be different from you,